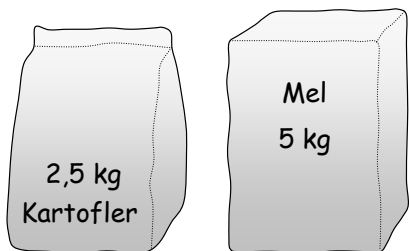
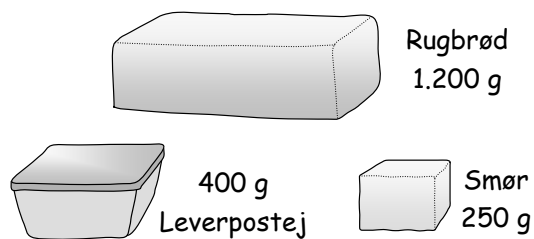


Vægtenheder

1: Angiv mængderne i gram:



2: Angiv mængderne i kg:



3: Omregn:

a: Fra kg til g:

4 kg 12 kg 1,5 kg 0,5 kg 0,1 kg

b: Fra g til kg:

6.000 g 2000 g 1400 g 200 g 12.000 g

4: Omregn:

a: Fra kg til g:

1,250 kg 0,125 kg 0,050 kg 0,005 kg 0,837 kg

b: Fra g til kg:

2.750 g 375 g 80 g 229 g 2 g

5: Omregn:

a: Fra ton til kg:

7 tons 15 tons 2,5 tons 0,8 tons 0,2 tons

b: Fra kg til tons:

5.000 kg 3.000 kg 1.800 kg 700 kg 500.000 kg

6: Omregn:

a: Fra ton til kg:

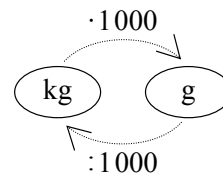
4,250 tons 0,950 tons 0,080 tons 0,009 tons 1,147 tons

b: Fra kg til ton:

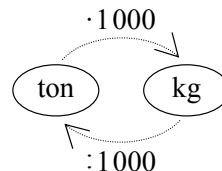
2.250 kg 950 kg 98 kg 2 kg 98.470 kg



$$1 \text{ kg} = 1.000 \text{ g}$$



$$1 \text{ ton} = 1.000 \text{ kg}$$



7: Angiv mængderne i gram:

$$\frac{1}{2} \text{ kg} \quad \frac{1}{4} \text{ kg} \quad \frac{1}{5} \text{ kg} \quad \frac{1}{8} \text{ kg} \quad 1\frac{3}{4} \text{ kg}$$

9: Angiv mængderne som helt antal gram:

$$\frac{1}{3} \text{ kg} \quad \frac{2}{3} \text{ kg} \quad \frac{1}{6} \text{ kg} \quad \frac{3}{7} \text{ kg} \quad \frac{1}{12} \text{ kg}$$

11: Læg mængderne sammen:

$$180 \text{ g} + \frac{1}{4} \text{ kg} + 0,275 \text{ kg} + \frac{1}{5} \text{ kg}$$

13: Olga Olsen køber disse varer.

Hvor meget vejer varerne tilsammen?
(Du skal ikke tænke på emballage)

8: Angiv mængderne i kg:

$$\frac{1}{10} \text{ ton} \quad \frac{3}{4} \text{ ton} \quad \frac{4}{5} \text{ ton} \quad \frac{1}{20} \text{ ton} \quad 2\frac{1}{4} \text{ ton}$$

10: Angiv mængderne som helt antal kg:

$$\frac{5}{6} \text{ ton} \quad \frac{4}{9} \text{ ton} \quad \frac{2}{3} \text{ ton} \quad \frac{1}{50} \text{ ton} \quad \frac{1}{500} \text{ ton}$$

12: Læg mængderne sammen:

$$800 \text{ kg} + 1\frac{1}{2} \text{ ton} + 1,05 \text{ ton} + \frac{3}{4} \text{ ton}$$

5 kg mel - 1.400 g rugbrød - 1 kg havregryn
$\frac{1}{4}$ kg rejer - 350 g leverpostej - 2 kg sukker
$2\frac{1}{2}$ kg kartofler - 25 g gær - 1,147 kg oksefars

14: Gunnars Grønhandel (I)

Find priserne for disse indkøb:

a: 3 kg kartofler og 2 kg æbler.

b: 2 kg bananer og 3 kg pærer.

c: 500 g tomater, 1,2 kg appelsiner og 2,4 kg pærer.

d: $2\frac{1}{2}$ kg kartofler og $1\frac{1}{2}$ kg pærer.

e: $\frac{1}{2}$ kg æbler og $\frac{3}{4}$ kg pærer.

f: 400 g løg og 800 g tomater.

g: 150 g hvidløg, 450 g champignon.

h: 1,5 kg æbler, 400 g ærter, 750 g bønner og 2,5 kg appelsiner.

15: Gunnars Grønhandel (II)

Hvor mange kg...

a: ...kartofler kan man få for 20 kr.?

b: ...appelsiner kan man få for 60 kr.?

c: ...løg kan man få for 15 kr.?

d: ...ærter kan man få for 30 kr.?

e: ...bananer kan man få for 12 kr.?

Gunnars Grønhandel

- gode varer

- faste kg-priser

Kartofler	5,00 kr.
Løg	6,00 kr.
Gulerødder	8,00 kr.
Æbler	9,00 kr.
Pærer.....	12,00 kr.
Appelsiner	15,00 kr.
Bananer	16,00 kr.
Tomater	18,00 kr.
Bønner	20,00 kr.
Ærter	24,00 kr.
Champignon	28,00 kr.
Hvidløg	36,00 kr.

- 16:** Find kg-priserne på Gerdas varer og sammenlign dem med Gunnars priser (se forrige opgave).

Gerdas Gode Grønt			
5 kg kartofler	18,00 kr.	1,2 kg pærer.....	15,00 kr.
1½ kg æbler	18,00 kr.	800 g tomater.....	15,00 kr.
2½ kg løg	16,00 kr.	400 g ærter	10,00 kr.
½ kg champignon.....	15,00 kr.	100 g hvidløg	5,00 kr.

- 17:** Slagter Karlsten

Find priserne for disse indkøb:

- a:** 2½ kg lever og 1½ kg hjertes.
b: 400 g oksefars og 300 g skinketern.
c: 1,250 kg flæskefars og 750 g engelsk bøf.

Hvor mange kg (3 decimaler)...

- d:** ...hjerter kan man få for 40 kr.?
e: ...skinketern kan man få for 100 kr.?
f: ...engelsk bøf kan man få for 50 kr.?

Slagter Karlstens Kød

- saftigt og kraftigt -
- se vores lave kg-priser -

Lever	19,90 kr.
Hjerter	24,90 kr.
Flæskefars	44,90 kr.
Oksefars	49,90 kr.
Skinketern.....	59,90 kr.
Culottesteg	99,90 kr.
Engelsk bøf	119,90 kr.

- 18:** Palles Pålæg

Find priserne for disse indkøb:

- a:** 650 g ost
b: 225 g leverpostej og 50 g roastbeef.
c: 135 g rullepølse og 220 g spegepølse

Og hvor meget...

- d:** ...ost kan man få for 100 kr.?
e: ...leverpostej kan man få for 25 kr.?
f: ...rullepølse kan man få for 30 kr.?

Palles Pålæg

- personlig betjening -
- passende kg-priser -

Leverpostej ..	29,75 kr.
Roastbeef	99,50 kr.
Rullepølse.....	85,25 kr.
Spegepølse ..	69,75 kr.
Ost.....	59,95 kr.

- 19:** Torbens Tankstation

- a:** Find kg-prisen på vaskepulver.
b: Sammenlign kg-priserne på kartofler i 5 kg-poser og 2,5 kg-poser.
c: Find kg-prisen på æbler.
d: Find kg-priserne på leverpostej, margarine og rullepølse.

Torbens Tankstation

- vi har også dagligvarer -

3 kg vaskepulver...	29,85 kr.
5 kg kartofler	24,95 kr.
2,5 kg kartofler ...	16,95 kr.
1,5 kg æbler	18,95 kr.
500 g leverpostej.	12,75 kr.
400 g margarine	9,90 kr.
200 g rullepølse	14,95 kr.

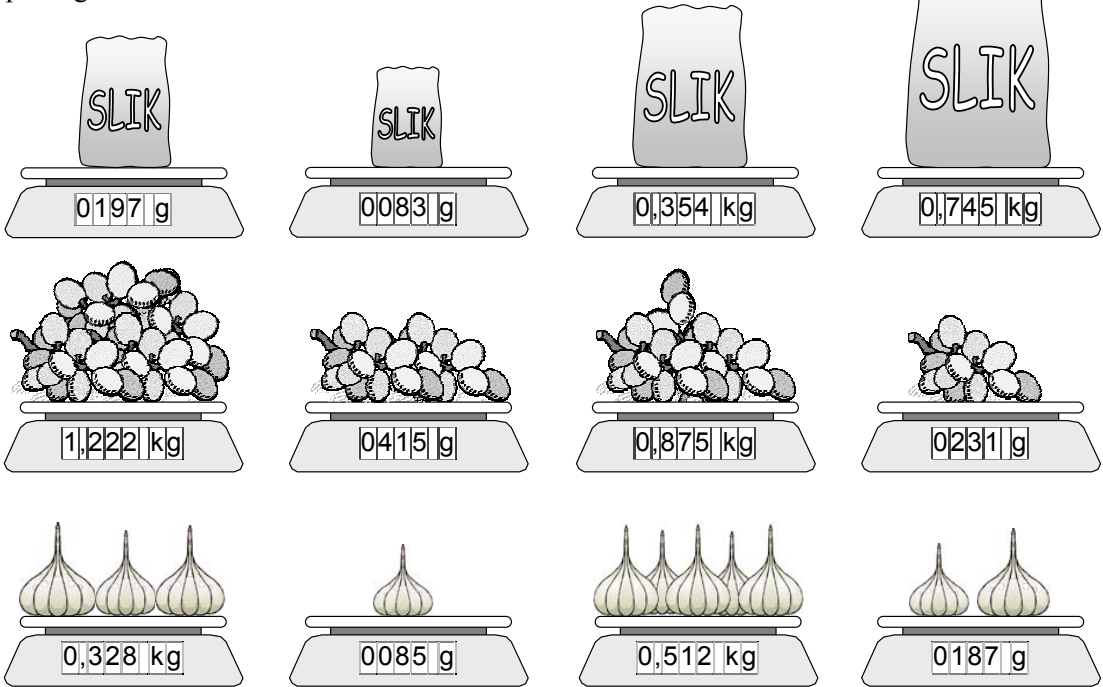
20: Slik, vindruer og hvidløg

Find priserne på disse indkøb:

- a:** 1 kg slik **f:** $\frac{3}{4}$ kg hvidløg
b: 1 kg vindruer **g:** 250 g slik og $\frac{1}{4}$ kg vindruer
c: 1 kg hvidløg **h:** 100 g vindruer
d: $1\frac{1}{2}$ kg vindruer **i:** 100 g hvidløg og 2 kg vindruer
e: $\frac{1}{2}$ kg slik **j:** $3\frac{3}{4}$ kg slik

Delikatesser i løs vægt
Slik Pr. 100 g 8,95 kr.
Vindruer Pr. $\frac{1}{2}$ kg 14,95 kr.
Hvidløg Pr. $\frac{1}{4}$ kg 12,95 kr.

21: Find priserne på de mængder der er vist på vægtene herunder:



22: Hvor ...

- a:** ...meget slik kan man få for 12 kr.?
b: ...meget slik kan man få for 5 kr.?
c: ...meget hvidløg kan man få for 10 kr.?
d: ...meget hvidløg kan man få for 15 kr.?
e: ...mange vindruer kan man få for 25 kr.?
f: ...mange vindruer kan man få for 45 kr.?
g: ...meget skærest kan man få for 100 kr.?
h: ...meget feta kan man få for 50 kr.?
- i:** ...mange oliven kan man få for 35 kr.?
j: ...meget feta kan man få for 20 kr.?

Oliven Pr. 100 g... 12,95 kr.
Skærest Pr. $\frac{1}{2}$ kg 39,95 kr.
Feta Pr. $\frac{1}{4}$ kg 29,95 kr.